

## Matte Direkt 5A Elevbok

Kapitel Sida Uppgift

2 58 71

Rätt svar/Tillägg/Kommentar

Korrigerad text:

**71** Lydia har en vattendunk som innehåller 4,8 liter vatten. Hon vill fylla på så att hon har totalt 10,13 liter vatten. Hur många flaskor av varje sort behöver hon? Välj bland flaskorna på bilden.

61 Arbeta tillsammans

Korrigerad text:

### Magisk kvadrat

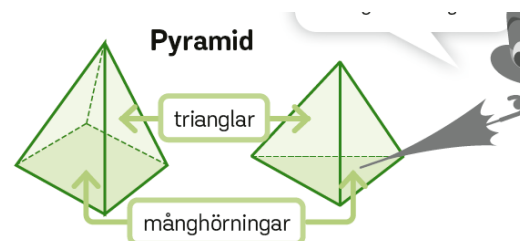
Summan av talen ska bli lika stor vågrätt →, lodrätt ↓ och diagonalt ↗↘.  
Rita av och skriv de tal som saknas.

Kapitel Sida Uppgift

4 130 Genomgångsrutan

Rätt svar/Tillägg/Kommentar

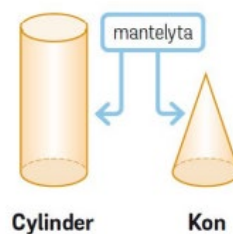
Korrigerad text:



Alla sidoytor utom en måste vara trianglar.

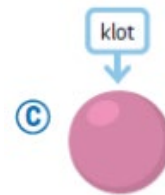
147 Genomgångsrutan

Komplettering bildtext



26

Komplettering, bildtext



27

Komplettering, bildtext

